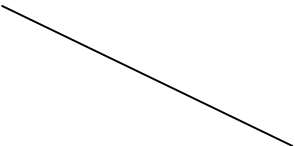

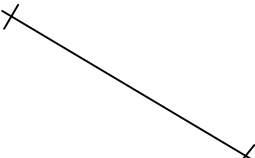

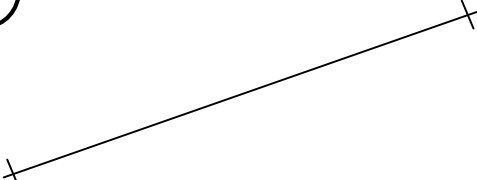
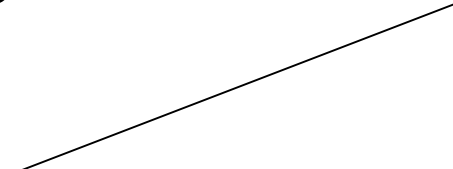

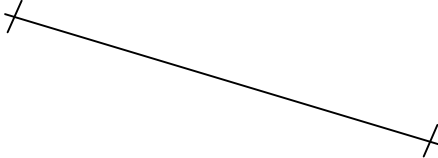


Pracovní list – Geometrie

1. libovolně pojmenuj přímky a úsečky
2. změř a zapiš délky úseček
3. rozděl na přímky a úsečky

<p>1</p>  <p>-----</p>	<p>2</p>  <p>-----</p>
<p>3</p>  <p>-----</p>	<p>4</p>  <p>-----</p>
<p>5</p>  <p>-----</p>	<p>6</p>  <p>-----</p>
<p>7</p>  <p>-----</p>	<p>8</p>  <p>-----</p>

Přímky jsou na obrázcích č. _____

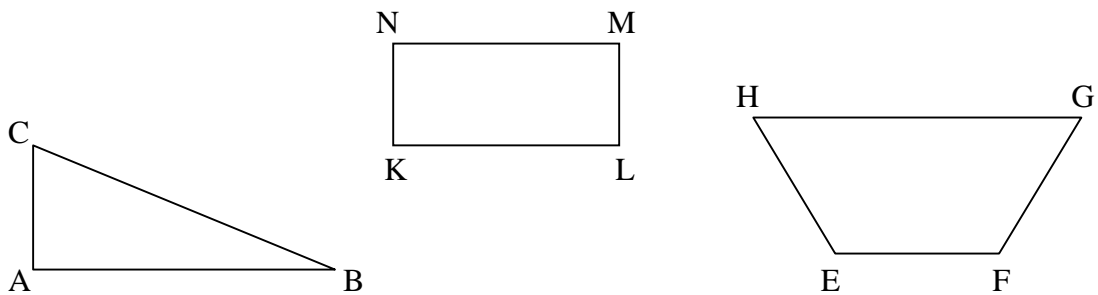
Úsečky jsou na obrázcích č. _____

Vyznač 5 bodů a pojmenuj je.

Narýsuj 2 přímky a pojmenuj je p a t.

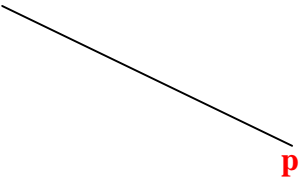

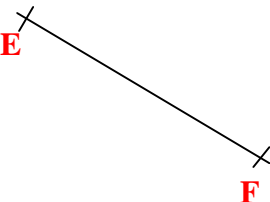

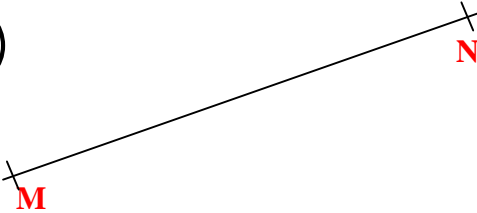
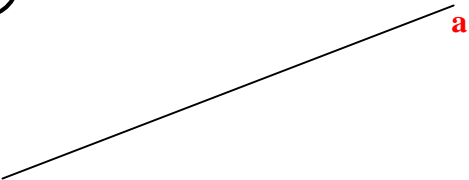

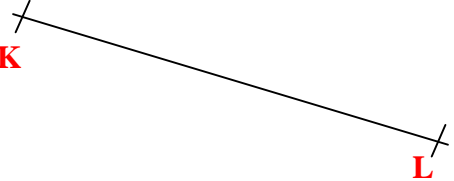
Narýsuj úsečku MN, aby $|MN| = 5\text{cm}$.

Vytáhni červeně úsečky: AB, LM, GH
Vytáhni zeleně úsečky: BC, NK, EF



VÝSLEDKY

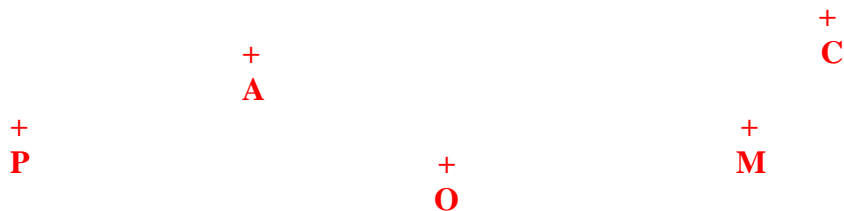
1. libovolně pojmenuj přímky a úsečky
2. změř a zapiš délky úseček
3. rozděľ na přímky a úsečky

<p>1</p>  <p>_____</p>	<p>2</p>  <p>$AB = 5\text{cm}$</p> <p>_____</p>
<p>3</p>  <p>$EF = 3\text{cm}$</p> <p>_____</p>	<p>4</p>  <p>_____</p>
<p>5</p>  <p>$MN = 6\text{cm}$</p> <p>_____</p>	<p>6</p>  <p>_____</p>
<p>7</p>  <p>$CD = 2\text{cm}$</p> <p>_____</p>	<p>8</p>  <p>$KL = 2\text{cm}$</p> <p>_____</p>

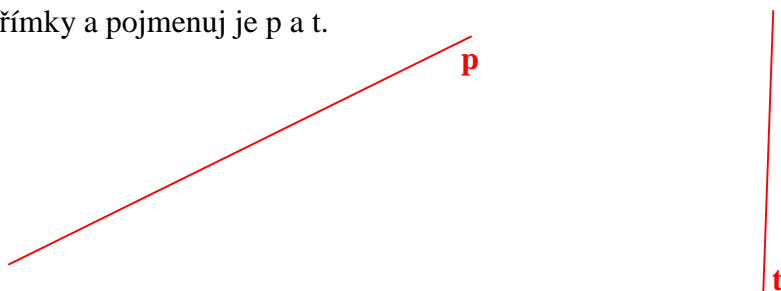
Přímky jsou na obrázcích č. 1, 4, 6

Úsečky jsou na obrázcích č. 2, 3, 5, 7, 8


Vyznač 5 bodů a pojmenuj je.



Narýsuj 2 přímky a pojmenuj je p a t.



Narýsuj úsečku MN, aby $|MN| = 5\text{cm}$.



Vytáhni červeně úsečky: AB, LM, GH
Vytáhni zeleně úsečky: BC, NK, EF

