

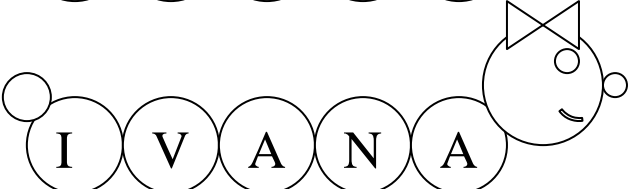


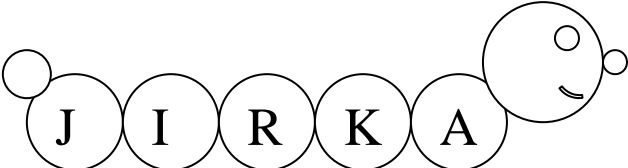
Závody


Třída housenek zavodí o to, která dřív doleze do cíle. Spočítej příklady a výsledek napiš do čtverce. Ta housenka, která bude mít nejmenší číslo vyhrává. Napiš jména housenek na stupně vítězů.


 $2 + 3 + 4 + 4 + 0 + 3 =$

 $1 + 6 + 2 + 3 + 1 + 1 =$

 $3 + 6 + 5 + 2 + 2 + 2 =$

 $4 + 4 + 1 + 6 + 2 + 1 =$

 $2 + 0 + 7 + 2 + 0 + 4 =$


 $4 + 5 + 7 + 0 + 1 + 2 =$


| | |
|-------|-------|
| 1. | |
| <hr/> | |
| 2. | 3. |
| <hr/> | <hr/> |

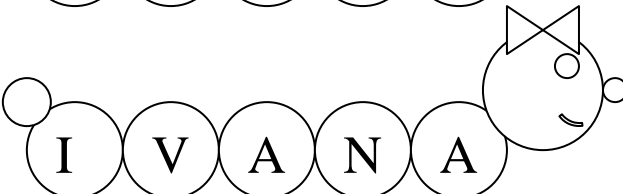
VÝSLEDKY


Závody


Třída housenek zavodí o to, která dřív doleze do cíle. Spočítej příklady a výsledek napiš do čtverce. Ta housenka, která bude mít nejmenší číslo vyhrává. Napiš jména housenek na stupně vítězů.


 $2 + 3 + 4 + 4 + 0 + 3 =$ 16

 $1 + 6 + 2 + 3 + 1 + 1 =$ 14

 $3 + 6 + 5 + 2 + 2 + 2 =$ 20

 $4 + 4 + 1 + 6 + 2 + 1 =$ 18

 $2 + 0 + 7 + 2 + 0 + 4 =$ 15

 $4 + 5 + 7 + 0 + 1 + 2 =$ 19

| | |
|-------------|-------------|
| 1. Karel | |
| 2. Helča | 3. Petra |